




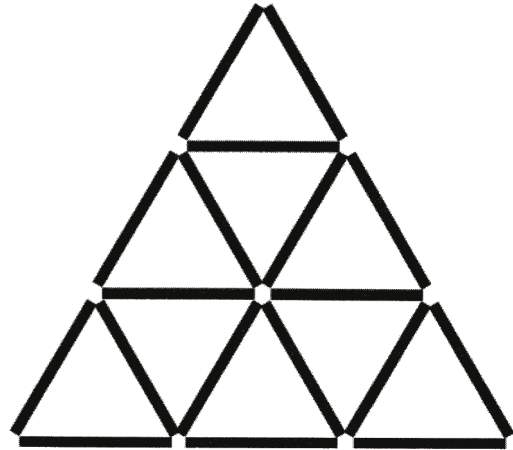
18

Skogsnötter


Skogshuggare Bark har lagt ut 12 stockar så att han fått fyra lika stora kvadrater. Kan du ta bort två stockar så att det blir kvar endast två kvadrater?



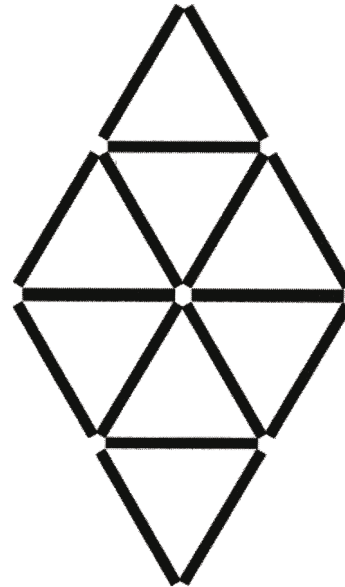
Ta bort fyra av stockarna så att det blir fem trianglar kvar.




Tolv stockar har lagts ut så att tre kvadrater har bildats. Kan du bilda fyra kvadrater genom att flytta tre stockar?



Åtta trianglar bildas av sexton stockar. Ta bort fyra stockar så att det bara återstår fyra trianglar.



Sjutton stockar bildar sex kvadrater. Ta bort fem av stockarna, så att det blir bara tre kvadrater kvar!



Facit:
Se nästa sida



Facit: Skogsnötter

Grundmall

Lösning

